

1 つぎの ひょうの くうらんに あてはまる かずを かきなさい。

(1)

○	3		5	2		9	
□	1	4	2		3		3
○と□のごうけい		5	7	9	10	9	9
○と□のちがい	2			5		9	

(2)

△	1		6	4			
☆		3			5	2	7
△と☆のごうけい	10	10	10	10	10	10	10
△と☆のちがい							

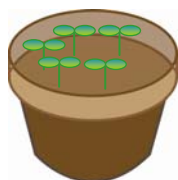
2 したの それぞれの はちうえに アサガオの たねを 10こずつ まきました。めが でなかつたのは それぞれ いくつですか。

(1)



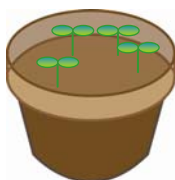
っ

(2)



っ

(3)



っ

(4)



っ

(5)



っ

に あう かずを こたえなさい。

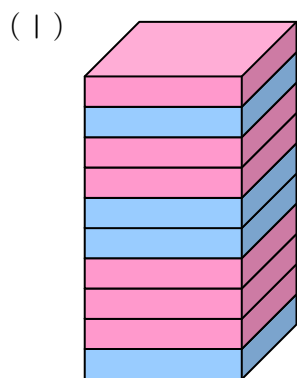
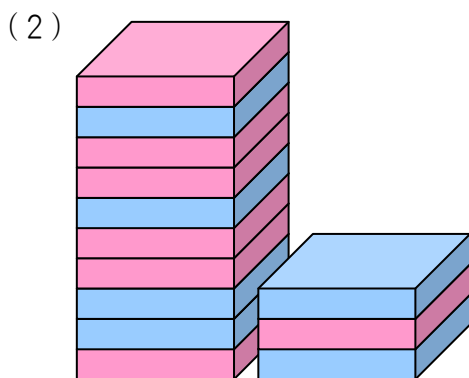
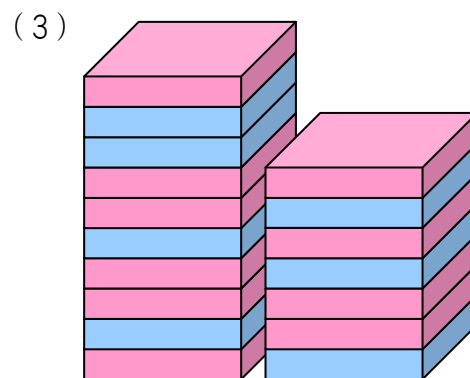
(1) 3より 5 おおきい かずは です。

(2) 7より 2 おおきい かずより 1 ちいさい かずは です。

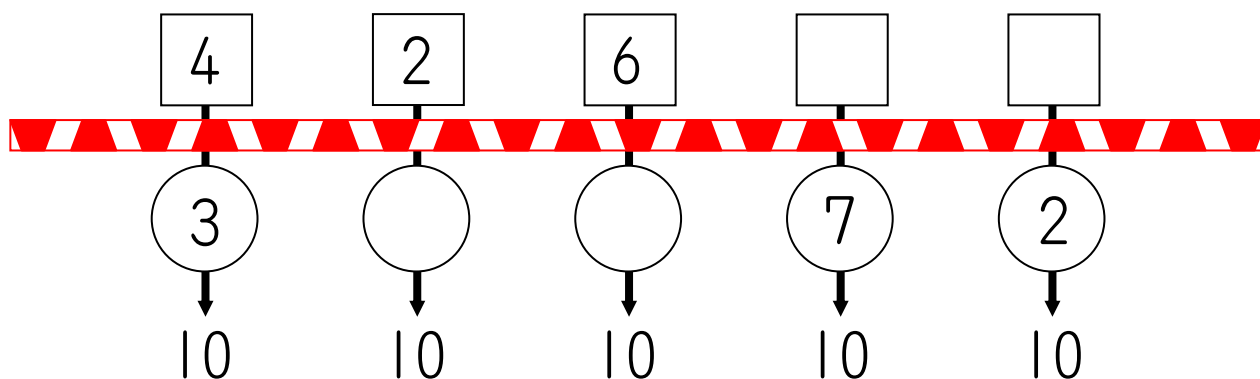
(3) 6より 3 ちいさい かずより 7 おおきい かずは です。




3 つぎの えは あかい はこと あおい はこが つまれたものです。それぞれ あおい はこを とると、あかい はこは なんこ のこりますか。


 こ

 こ

 こ

4 を とおると もとの かずより 3 おおきくなり、その おおきくなった かずと の なかの かずを あわせると 10に なります。このとき したの くうらんに あてはまる かずを かきなさい。



カードを ロジオくんは 9まい、ロジコさんは 3まい もって います。ふたりの カードの かずを おなじに するには、どちらが どちらに なんまい あげれば よいですか。


 が まい あげる


1 つぎの はたの えを みて こたえなさい。



(1) みぎから 4ばんめは どの はたですか。

(2) ひだりから 5ばんめは どの はたですか。

(3) ちょうど まんなかの はたは どれですか。

(4) **す**の はたは みぎから なんばんめ ですか。

(5) **ん**と **い**の あいだには なんぼんの はたが ありますか。

2 10にんの こどもが 1れつに ならんでいます。ロジオくんは まえから 7ばんめ です。では、うしろから かぞえたら ロジオくんは なんばんめですか。

 ばんめ

3 8にんで きょうそを しました。ロジコさんは はじめ まえから 6ばんめでしたが そのあと 3にん ぬきました。いま、ロジコさんは うしろから なんばんめですか。

 ばんめ


4 したの ような すうじを かいた 7まいの カードを おおきい かずの カードが したに なるように かせねます。



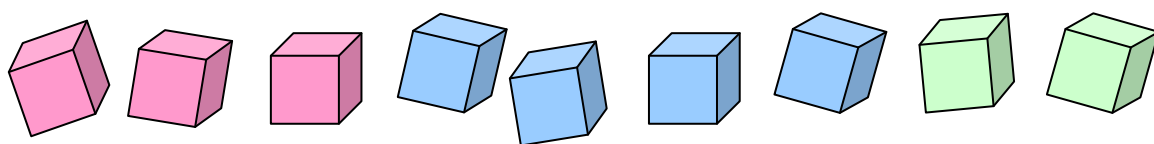
(1) いちばん うえの カードの すうじは なんですか。

(2) うえから 3ばんめの カードの すうじは なんですか。

(3) したから 4ばんめの カードの すうじは なんですか。

(4) うえから 5ばんめの カードを おとして しまいました。このとき、したから 6ばんめの カードの すうじは なんですか。

5 あかい つみきが 3こ、あおい つみきが 4こ、みどりの つみきが 2こ あります。これを たかく つみあげることに しました。



(1) かずの おおい いろの つみきから じゅんばんに、おなじ いろの つみきが つづく ように つんでいきます。したから 5ばんめの つみきは なにいろですか。

(2) かずの すくない いろの つみきから じゅんばんに、おなじ いろの つみきが つづく ように つんでいきます。うえから 7ばんめの つみきは なにいろですか。

