


しゅちやー

よそうする
「また」
いろいろなわらいかた
ずをかいてかんがえる
わかることをさがす




問題

1

つぎのいきものの絵を見てかんがえよう。

◎まず、いろいろな生き物について、先生の説明を聞こう。



●よそう こんちゅうとはどんなむしだと思えますか？

Handwriting practice area with two dashed lines for writing.



◎よそうをもとに、下の^{した}生き物^{いもの}からこんちゅうをえらぼう◎



バッタ



ザリガニ



ヒト



クモ





カ



ウマ

このページは、自由に使ってかまいません。

A large grid of dots for writing answers.

この問題からの**学****び**

A large empty box for writing answers.



問題 2

つぎの文章^{ぶんしょう}をよんで、問題^{もんだい}をかながえてみましょう。

たかしくんは、アメがだいすきです。また、チョコもだいすきです。ともだちのえみこさんがアメとチョコをあわせて10こもっていたのをはんぶんずつ、たかしくんにくれました。たかしくんは、にっこりわらって、「ありがとう」といいました。たかしくんはチョコを2ことアメ【 】こをもって、家にかえりました。

はなし
話

①

また

はなし
話

②

おな
同じようなこと

(1) つぎの3つの文章^{ぶんしょう}を「また」で正しくつながるように線^{せん}でおす
びましょう。

きょうのゆうごはん
はぼくのだいこうぶ
つのエビフライだっ
た。

どろぼうがたんすを
あけたら、たくさん
のほうせきがはいっ
ていた。

ぼくはさんすうのじ
かんに、けいさんを
たくさんまちがえて
しまった。

また

さいふもいっしょに
おいてあったので、
しめしめとおもい、
にやりとわらった。

^{かんじ}漢字のべんきょうも
たくさんまちがえて
しまい、にがわらい
をした。

デザートプリンも
だいすきだったので、
おもわずにんまりし
てしまった。



(2) つぎの「また」につづく文をつくりましょう。

ゴリラはとてもかしこい動物だといわれています。また、

Blank writing area with a dashed line for the first line.

(3) 【 】にあてはまる数字はいくつですか。

Answer box with the vertical text "答え" (Answer) on the left and a blank space on the right.

(4) 「また」「にんまり」「だから」「さんすう」ということばをつかって作文しましょう。

Large blank writing area with three dashed lines for writing.

これより下のページは、自由に使ってかまいません。



 この問題からの **学び** 

Large empty box for notes or additional information.



問題 3

たかしくん、よしおくん、みさきさん、はるみさんの4人の家族はみんなで遊園地に遊びに行くことにしました。車で行くことにしました。5人乗りの車にわかれて乗ったところ、3台は満員で、1台は3人だけ乗ることになりました。また、おとなは、みさきさんはおかあさんだけがついてきましたが、ほかの家族はおとうさんもおかあさんもついてきて、たかしくんの家族はおばあさんもついてきました。

(1) 遊園地に行くのは全部で何人ですか。

(2) こどもはぜんぶで何人ですか。

答え

(1)

(2)



問題

4

たろうくん、さとしくん、あきこさん、まさとくん、よしえさんの
 5人のねんれいは、つぎのア～カのようになっていました。このと
 き5人をねんれいのたかい順にをこたえなさい。

ア. たろうくんはさとしくんより5さい年下だ。

イ. さとしくんはよしえさんより3さい年下だ。

ウ. あきこさんはまさとくんより4さい年上だ。

エ. まさとくとたろうくんは2さいはなれている。

オ. おなじねんれいの人はいない。



カ. いちばん年上の人と年下の人では8さいはなれている。

答え	年上				年下



このページは、自由に使ってかまいません。

A large grid of small dots for writing.

 この問題からの **学び** 

A large empty rectangular box for notes.



問題

5

チャレンジ



たて、よこ、ななめには、1～5までの数字を一度ずつしかつかえないものとするとき、下の図で に入る数字をこたえなさい。



1	2	3	4	5
		5		
?		2		
	3	4		
4	5	1	2	3

答え	
----	--



このページは、自由に使ってかまいません。

Large grid of dots for writing.

 この問題からの **学び** 

Large empty box for notes.



* ヌ モ *



なまえ